

# 適性検査Ⅰ

## 注 意

- 1 試験開始の指示があるまで問題用紙を開いてはいけません。
- 2 試験時間は五十分間で、終わりは午前九時四十分です。
- 3 問題は□ 問一から問四まで  
□ I (三問)と □ II (二問)  
□ 一問  
があります。
- 4 問題用紙は1ページから6ページまであります。  
試験開始の指示後、すぐにページがそろっているかを確認しなさい。
- 5 解答用紙は二枚あります。
- 6 受験番号と氏名をそれぞれの解答用紙の決められた場所に記入しなさい。
- 7 解答はすべて解答用紙に記入しなさい。試験終了後、問題と解答用紙(二枚)を回収します。

□ 次の文章を読み、後の問いに答えなさい。

最近ではバリアフリーという考え方もかなり普及し、設備のために自分たちが支払った切符の代金や税金の一部が使われることはわるいことではない、と考える人たちも増えてはきました。

けれど、それを無駄遣いであると思なす人だっていないわけではありません。エレベーターの設置に賛成している人のなかにも、「自分たちの負担が A 」との条件をつける人は案外多いのではないかと思えます。

よいわるいの判断は別として、自分自身も健康で、しかも親しい人間のなかにも駅の階段の昇り降りに不自由をおぼえるような人はいない、という人たちのなかにも、バリアフリーの問題を他人事としてしか感じられない人がいたとしても、なんら不思議ではありません。

エレベーターの設置に限らず、目で見、耳で聞き、足で歩く人たちのからだを前提にできあがっているさまざまなくみを、いろいろなかからだをもった人たちがいることを踏まえたものへとつくりかえていくためには、たいていの場合、なにがしかのコストがかかることとなります。

バリアフリーのための設備の設置や改築なら、それはお金の負担というかたちをとりますし、直接の人間関係であれば、時に自分を抑えて相手と

のあいだに妥協点を模索することが求められます。①文字どおりの意味でも、比喩的な意味でも、「共生」は、決して「タダ」ではすまない、ということです。

共生が単なるお題目に終わるのか、②現実のものとなるのか。それは、困っているさまをいま目の当たりにしているわけでもない状況で、なおかつ、友だちや家族といった自分にとって大切な人のためだけにではなく、③会ったことのない誰かのために、想像力をはたらかせて積極的に負担を行える人たちがどのくらいいるのか、そのことに大きく左右されるのではないかとぼくは考えます。

〔倉本智明「だれか、ふつうを教えてください！」（よりみちパン！セ）〕

問一

A

に入る内容を、前後の文脈を踏まえて書きなさい。

問二 — 部①とありますが、

1 「文字どおりの意味での『タダ』ではすまない」とはどういうことですか。文中の語を用いて記しなさい。

2 「比喩的な意味での『タダ』ではすまない」とはどういうことですか。文中の語を用いて記しなさい。

問三 — 部②とありますが、現実のものとするために、必要なのはどんなことですか。文中の語を用いて記しなさい。

問四 — 部③とありますが、それはどのような人たちだと考えられますか。本文中から探し、十五字で答えなさい。

三

I. 和子<sup>かず</sup>さんは新聞記事を使って調べ学習をしました。これと先生との会話を読み、あとの問いに答えなさい。

「リオデジャネイロ五輪のメダルについて」  
九段 和子

- 2016年にリオデジャネイロで開催<sup>かい</sup>されたオリンピック・パラリンピックのメダルは、環境への配慮<sup>りよ</sup>が特徴<sup>ちゆう</sup>です。
- 金メダルはリサイクルした銀を92.5%使って、その上から金メッキをしているそうです。
- 他のメダルも30%はリサイクル素材<sup>そざい</sup>が占める<sup>し</sup>そうです。
- パラリンピックのメダルには金属の球を入れて、音で種類<sup>しゆ</sup>が分かるよう工夫<sup>くわ</sup>されています。

参考資料：2016年6月15日 朝日新聞デジタル

〔和子〕 金属をリサイクルするのは良いことだと思いました。

〔先生〕 限りある資源をむだにしないという取り組みですね。

〔和子〕 それから、メダルへの工夫<sup>くわ</sup>は、障がいのある人のことが

しつかり考えられていると思えました。

〔先生〕 障がいのある人だけでなく『すべての人が利用できる』

という（X）の考えにもとづいて作られているそうですよ。

〔和子〕 ちょっとだけ残念なのは、金メダルなのに、全部が金で

できているわけではなかったことです。

〔先生〕 金は高価ですからね。また、金そのものを精錬<sup>しん</sup>するとき

に水銀を使うから、という理由もあるようです。

〔和子〕 日本では高度経済成長期に（ Y ）

水銀による公害病として大きな問題となりました。

〔先生〕 そうですね。金の使用量を少なくすることを通じて、環

境破壊<sup>かい</sup>や精錬作業をする人々の健康被害を減らすという、

メッセージも込められているのかも知れませんね。

〔和子〕 ところで、リオデジャネイロはどこにあるのですか？

〔先生〕 世界地図を見ましょう。

〔和子〕 南アメリカ大陸にありました。東京の南東です。

〔先生〕 和子さん、違いますよ。世界地図は目的に応じて使い分

ける必要があるのです。どれを見れば良いか考えましょう。

〔和子〕 分かりました。リオデジャネイロは東京の北北東です。

この地図は東京からの距離<sup>きより</sup>も正確です。オリンピック・

パラリンピックのテレビ生中継<sup>けい</sup>が、日本の深夜から早朝の

時間だったのは、そういうわけだったのですね。」

※鉱石（金属をふくんだ石）から金属を取り出すこと

問一 ( X ) にあてはまる語を、次のア～エから一つ選び、記号で答えなさい。

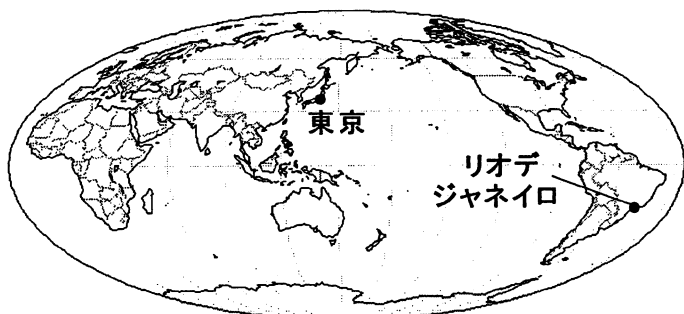
- ア. インフォームド・コンセント
- イ. ソーシャルデザイン
- ウ. ユニバーサルデザイン
- エ. プライバシーポリシー

問二 ( Y ) にはどんな語句が入りますか。考えて書きなさい。

問三 — 部について、「そういうわけ」とは具体的にどのようなことですか。次の2枚の世界地図のどちらかを参考にして、説明しなさい。

**モルワイデ図法でえがかれた世界地図**

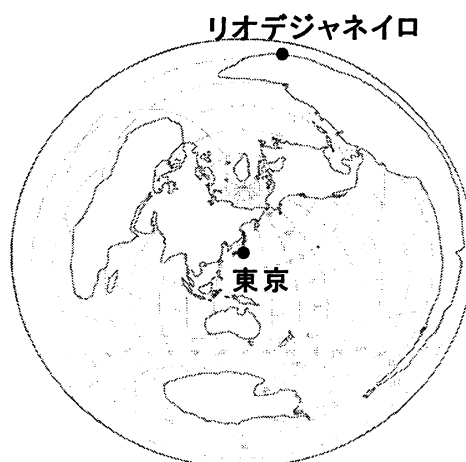
特徴：大陸の面積と形が正しくえがかれている。



(<http://www.craftmap.box-i.net/>より作成)

**正距方位図法（東京が中心）でえがかれた世界地図**

特徴：地図の中心から任意の地点への距離と方位が正しい。地図の円周は、中心点の反対側の地点を示している。地図の直径は地球1周分の距離である。



(<http://www.freemap.jp/>より作成)

テーマ：洗濯表示の変更

○以前、新聞に「洗濯表示 12月に衣替え」という記事があり、興味を持ったので調べることにした。

○分かったこと

洗濯表示が2016年12月1日から変更された。これまでは日本工業規格（JIS）で定めた日本独自の表示だったが、国際標準化機構（ISO）の規格に沿う表示に変更された。

例)

変更前			
変更後			

○意見・感想

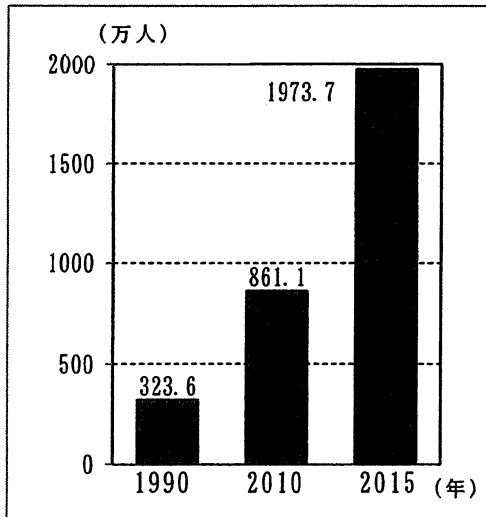
洋服についている洗濯表示は、今までよく見たことがなかった。「高」や「平」と漢字で書いてある方が「…」や「-」の記号よりも分かりやすいと思うので、なぜ変更するのか疑問に思った。

(参考資料：2016年10月15日読売新聞夕刊1面、消費者庁HP)

Ⅱ. 洋子さんは、調べ学習で洗濯表示の変更についてノートにまとめました。これを読んで、あとの問いに答えなさい。

資料2

<訪日外客数\*の変遷>

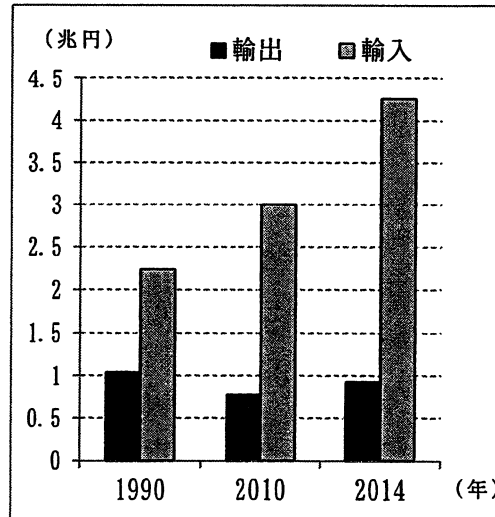


(日本政府観光局HPより作成)

\*日本に入国した外国人から永続的に居住する外国人を除いたもの

資料1

<繊維品の輸出入額の変遷>



(データブック・オブ・ザ・ワールド 2016年版より作成)

問 洗濯表示が変更された理由は何だと思えますか。次の資料1・資料2のどちらかを使って、あなたの考えを書きなさい。

三

あなたは日本の内閣総理大臣になりました。現在の日本が抱える問題や課題のうち、あなたが最も解決したいことは何ですか。また、それを解決するためにどのような提案をしますか。百五十字程度で述べなさい。

※解答は、原稿用紙の正しい使い方<sup>（こま）</sup>で書き、書き出しは一ます空けて書き始めなさい。

※、や。や 「なども一字と数えます。