

1 次のA～Cの文は歴史上の人物についての説明です。これらを読んで、あとの問いに答えなさい。

A ①聖徳太子が亡くなってから、蘇我氏が政治を動かすようになりました。私はそのような世の中を変えようと、645年に蘇我蝦夷・(②)親子を滅ぼし、天皇中心の政治を目指し改革をおこないました。私はのちに即位して天智天皇と呼ばれるようになりました。

問1 Aの文中の「私」の名を漢字で答えなさい。

問2 下線部①の「聖徳太子」がおこなったこととして正しいものを、次のア～エから一つ選び、記号で答えなさい。

- ア. 平城京に都を移した。
- イ. 冠位十二階を定めた。
- ウ. 中国(魏)の皇帝に使いを送った。
- エ. 仁徳天皇を助けて政治をおこなった。

問3 文中の空らん(②)にあてはまる人物の名を漢字で答えなさい。

B 私は平治の乱で敗れ、伊豆に流されました。1180年に兵をあげ、1185年に平氏を滅ぼしました。その後、1192年に(③)となり、初めて武士による政権である④鎌倉幕府を開きました。そして、有力な家来を諸国の守護や地頭に任命し、幕府の力を広げました。

問4 Bの文中の「私」の名を漢字で答えなさい。

問5 文中の空らん(③)にあてはまる役職名を漢字で答えなさい。

問6 下線部④について、鎌倉幕府の期間として最も近いものを次のア～エから一つ選び、記号で答えなさい。

- ア. 約140年間
- イ. 約190年間
- ウ. 約240年間
- エ. 約290年間

C 私は薩摩藩(今の鹿児島県)の下級藩士でした。私は江戸幕府を倒すことを決め、⑤ある藩と同盟を結びました。江戸幕府滅亡後の明治政府でも活躍しましたが、朝鮮についての政策で反対にあい、政府を去りました。その後、私は故郷の鹿児島で西南戦争を戦い、敗れました。

問7 Cの文中の「私」の名を漢字で答えなさい。

問8 下線部⑤の「ある藩」とはどこか、次のア～ウから一つ選び、記号で答えなさい。

- ア. 長州藩
- イ. 肥前藩
- ウ. 水戸藩

問9 Cの文中の「私」と同じ時代の人物としてあやまっているものを、次のア～エから一つ選び、記号で答えなさい。

- ア. 大久保利通
- イ. 板垣退助
- ウ. 徳川吉宗
- エ. 伊藤博文

2 次の日本国憲法の条文を読み、あとの問いに答えなさい。

1. 日本国民は、正義と秩序を基調とする国際平和を誠実に希求し、国権の発動たる(①)と、武力による威嚇又は武力の行使は、国際紛争を解決する手段としては、永久にこれを放棄する。
2. 前項の目的を達するため、陸海空軍その他の(②)は、これを保持しない。国の(③)は、これを認めない。

問1 上の条文は、憲法の第何条ですか。答えなさい。

問2 上の条文の(①)～(③)にあてはまる語を漢字で答えなさい。

第25条

1. すべて国民は、(④)で文化的な最低限度の生活を営む権利を有する。
2. 国は、すべての生活部面について、社会福祉、社会保障及び公衆衛生の向上及び増進に努めなければならない。

問3 上の条文の(④)にあてはまる語を漢字で答えなさい。

問4 問3の条文に関連する権利を次のア～エから一つ選び、記号で答えなさい。

- ア. 参政権
- イ. 請求権
- ウ. 自由権
- エ. 社会権

第26条

1. すべて国民は、法律の定めるところにより、その能力に応じて、ひとしく教育を受ける権利を有する。
2. すべて国民は、法律の定めるところにより、その保護する子女に普通教育を受けさせる義務を負ふ。義務教育は、これを無償とする。

問5 上の条文を参考にして、あなた(子ども)にとって、学校に通うことは義務ですか、権利ですか。どちらであるか答えなさい。

3 次の文章を読み、あとの問いに答えなさい。

2017年6月、東京の上野動物園で①パンダの赤ちゃんが誕生たんじょうしました。夏休みに旅行しようと考えていた私は、もっとたくさんのパンダを見たいと思い、上野動物園以外でパンダを見られるところがあるか調べてみました。すると、兵庫県②神戸市の動物園と③和歌山県にある動物園にパンダがいることがわかりました。そのうち和歌山県の動物園にはパンダがたくさんいることを知り、多くのパンダを見られる機会だと感じ、和歌山県を目的地に決めました。旅行の服装を決めるために、和歌山県の気候についても調査をしました。

動物園以外の場所も訪れたいと思い、和歌山県についてさらに調べると、「紀伊山地の霊場と参詣道」(熊野古道)という④世界遺産があることがわかりました。この熊野古道には世界遺産登録をきっかけに多くの人を訪れるようになりました。しかし、観光客の増加が自然に悪影響えいきょうを及ぼしてしまうこともあり、熊野古道でも⑤環境保全かんきょうほぜんが課題かだいとなっているようです。自然破壊をしないようにすることは難しいですが、少しでも悪い影響あつを与えないよう、気をつけながら観光したいと思います。

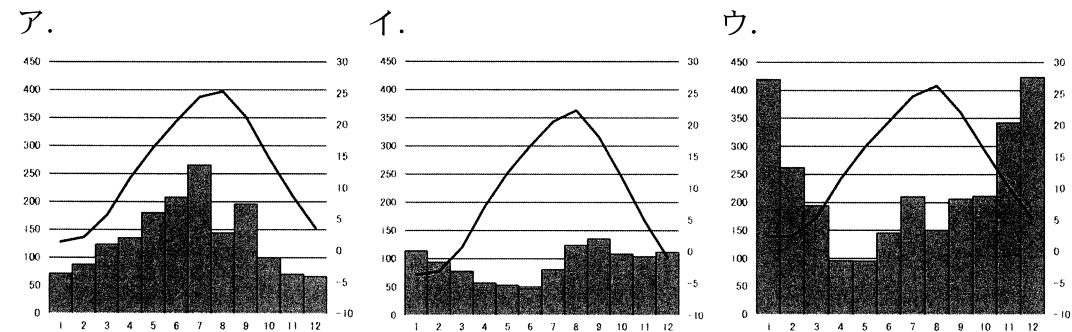
問1 下線部①の「パンダ」について、日本がパンダを輸入している(借りている)国の名を答えなさい。なおその国は、世界最大の人口で知られています。

問2 下線部②の「神戸市」は政令指定都市です。次のア～エのうち、政令指定都市ではないものを一つ選び、記号で答えなさい。

ア. 川崎市 イ. 北九州市 ウ. 長野市 エ. 熊本市

問3 下線部③の「和歌山県」について、

I 日本各地の気温と降水量をあらわした次のア～ウのグラフのうち、和歌山県の県庁所在都市のものを一つ選び、記号で答えなさい。



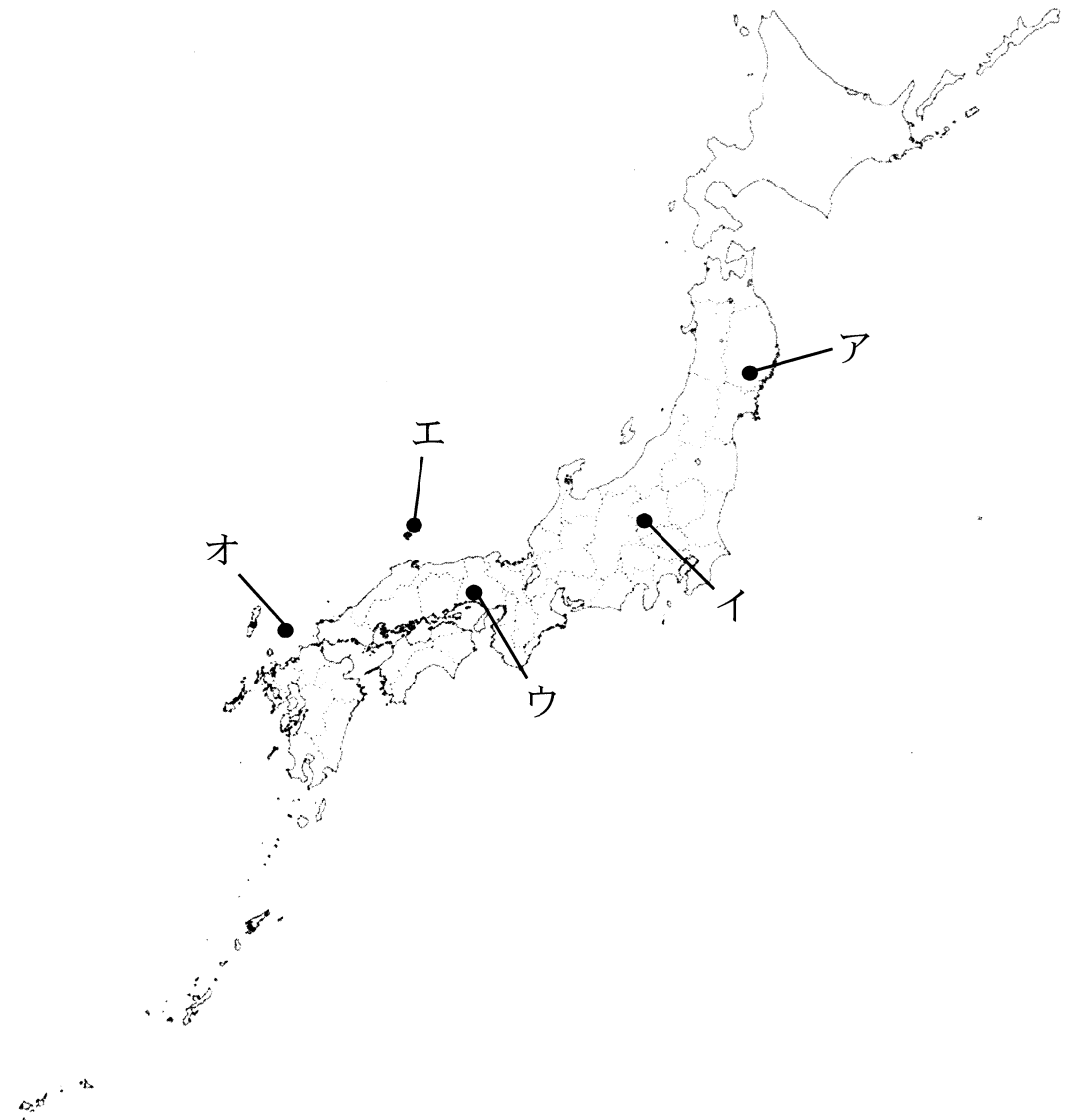
(グラフの左軸は降水量(mm)、右軸は気温(°C)、下辺は各月をあらわす)

II 和歌山県の特産物としてふさわしいものを次のア～エから一つ選び、記号で答えなさい。

ア. なし イ. みかん ウ. ぶどう エ. りんご

問4 下線部④の「世界遺産」について、次のAとBの場所として正しいものを、地図中のア～オからそれぞれ選び、記号で答えなさい。

A. 姫路城 B. 沖ノ島



問5 下線部⑤について、ごみの投棄とうきが問題となり世界自然遺産への登録が見送られた日本の山の名を答えなさい。この山は山梨県と静岡県にまたがっており、文化的価値を評価され世界文化遺産として登録されました。

4 別紙の新聞記事を読み、あとの問いに答えなさい。

問1 記事の (記事中の) にも同じ語が入ります) にあてはまる語を、**アルファベット2字**で答えなさい。

問2 記事を読み、この中に書かれている内容で何に関心がありますか。その関心のある記事の部分をぬきだし、その理由も合わせて書きなさい。

□やロボットに置き換わる可能性で分類した主な業種


※2015年の野村総合研究所の試算を基に作成

高い	低い
一般事務員 受付係 銀行窓口係 警備員 経理事務員 自動車組立工 出荷・発送係員 エーサー・店員 データ入力係 ビル清掃員 ホテル客室係 レジ係	インテリアデザイナー 映画監督 エコノミスト 経営コンサルティング 外科医 小中学校教員 ソムリエ ツアー・コンダクター 内科医 美容師 保育士 旅行カウンセラー係

きい。インターネットバング
 ビジネス環境の変化も大
 縮小している。
 利政策の影響で、利ざやが
 希望する店まで同じお客
 ん。日本銀行のマイナス金
 貸し出し業務の不振があ
 背景には、銀行の本業であ
 抜本的な改革に踏み切る
 事に相当する。
 とすると、150人の仕
 間労働時間を200時間
 る方針だ。1人あたりの年
 30万時間分の業務を削減す
 を進め、来年3月末までに
 書類作成業務などで自動
 強調した。みずほは、まず
 長は13日の決算記者会見で
 みずほFの佐藤康博社
 (未来の)勝者になる」

希望する店まで同じお客
 さんを案内するロボットS
 irobot (10日)
 東京銀行東区のバルコナ上
 野で、北伊藤 撮影

省力化加速 ロボット時代



みずほFGの構造改革発表

30万時間分割減
 キングの普及などを背景
 く。三菱東京UFJ銀行は
 国内従業員3割にあたる
 9500人相当の業務量を
 ている。駅前の一等地を中
 クロジで圧倒的に変わ
 心を展開する店舗網は高い
 減らす方針だ。三井住友
 ける。そこの勝者が
 (未来の)勝者になる」

みずほFインシャルグループ(FG)が人員削減を含む抜本的な構造改革に着手する。人工知能□やロボット技術などを活用し、銀行員の働き方を大きく変える。同様の動きは、金融業界だけでなく、小売や製造業など様々な業に広がる。最新のテクノロジが企業に変革を迫っている。
 (経済部 市川大輔、鷲尾龍一、関連記事1面)



働く人の立場から見ると、見える風景は大きく変わる。
 □やロボット技術の活用は、これまでやってきた仕事を奪われることになるからだが、野村総合研究所によると、今後10、20年で、日本の労働人口の約49%が就く職業が□やロボットに置き換わる可能性があるという。
 具体的な職種として、一般事務員や銀行の窓口係などを列挙している。コンピュータ上が得意な顧客情報の管理や

ホワイトカラー業務

「5割は自動化」も

処理業務だ。
 逆に創造性や協調性、他者への理解などが求められる映画監督や教員などは代替の可
 能性が低いとした。転職情報サイト「リクナビNEXT」の藤井薫編集長は「ホワイトカラー(事務部門)業務のうち5割は自動化が進むだろう」と話す。
 日本企業は1991年のバブル崩壊以降、大規模なリストラに踏み切った。生き残るための人員削減の割合が濃かった。最近の動きはこれと対照的だ。足元では大手で過去最高の好業績が相次ぎ、株価も高水準で推移する。
 少子高齢化に伴う人手不足や、長時間労働の是正など働き方改革」が社会的に強く求められている。
 課題は、中小企業の多いサービス業だ。IT化による業務の効率化が遅れており、政府も支援に力を入れる。東洋大学の滝沢美帆教授は「中小企業の生産性が向上すれば日本経済の成長に貢献できる」と話す。

人手不足「分業」で打開

□やロボット技術で生産性の向上が期待される

人手不足
 求人人倍
 率は約43年
 ぶりの高水準

働き方改革
 や
 残業規制の
 残脱時間給
 動き広がる

将来的な
 労働人口の減少
 2035年には33人に
 1人が65歳以上

人か、しかもよい業務は
 □やロボットに任せる

顧客サービスなどに人員を振り
 向け、競争力を強化
 ・効率化による業績改善で、経済を
 活性化