

1 次の会話を読み、あとの問いに答えなさい。

先生 : 「今から 150 年ほど前の日本は、どのような状況じょうきょうだったでしょうか？」

A さん : 「1868 年という、①明治維新ですね。」

先生 : 「明治時代の政治は、その前の江戸時代と比べて、どこが違ちがいますか？」

B さん : 「まず_{x)} 天皇中心の政府になったことです。」

A さん : 「また、②欧米の政治を手本にして様々な法律や制度が制定せいされました。」

先生 : 「政治以外に変化したことはありますか？」

B さん : 「③工業や経済も発達しました。」

A さん : 「人々のくらしも大きく変化しました。」

B さん : 「日本は、_{y)} 昔から外国の制度や文化を上手に取り入れてきたんだと思います。」

A さん : 「でも、『欧米諸国に負けないように』と競う中で、どんどん④戦争を進めていったことは、私は、あまり良くなかったと思います。」

B さん : 「戦争中の人々の生活は、とても苦しくつらいものだったと思います。」

先生 : 「そうですね。戦争の反省をふまえて、戦後の政治は大きく変わりましたね。大きく違うことは何でしょうか？」

A さん : 「もう⑤絶対に戦争をしない、と憲法で決めました。」

B さん : 「自由や平等などの人々の権利が尊重されるようになり、政治の中心は天皇から国民になりました。」

先生 : 「より良い政治を進めていくうえで、みなさん一人ひとりがしっかり考えていくことが大切ですね。」

問 1 下線部①について、幕末から明治維新にかけて起こった次のア～エのできごとを、起こった順に並べたときに、**2 番目**に来るものはどれですか。記号で答えなさい。

- ア. 天皇による政治を始めるといふ、王政復古の大号令が出された。
- イ. 五か条の御誓文が出され、新しい政治の基本方針が示された。
- ウ. 江戸幕府の第 15 代将軍徳川慶喜が、政権を朝廷に返した。
- エ. それまでの藩が廃止はいしされ、新たに府や県が置かれた。

問2 下線部②について述べた次のア～エから、**あやまっているもの**を一つ選び、記号で答えなさい。

ア. 欧米に派遣された岩倉使節団の中には、のちに女子教育の発展に力をつくした津田梅子などの女性も数人含まれていた。

イ. 伊藤博文は、皇帝の力が強いアメリカの憲法を手本にして、日本の憲法の案をまとめた。

ウ. 日本初の教育に関するきまりである学制を發布し、国民に教育を受けさせるようにした。

エ. 江戸時代までの身分制度を廃止し、国民はみな平等とした。

問3 下線部③について、1872年に群馬県につくられた官営の工場を何といいますか。漢字で答えなさい。

問4 下線部④について、

I 戦争に関する次のア～エのできごとを、起こった順に並べたときに、**2番目**に来るものはどれですか。記号で答えなさい。

ア. 日本軍と中国軍が北京の近くで衝突し、日中戦争が始まった。

イ. 清と日本が朝鮮に軍隊を送り、日清戦争が始まった。

ウ. ヨーロッパで第一次世界大戦が始まった。

エ. 満州を主な戦場として、日露戦争が始まった。

II 太平洋戦争の末期に起こった次のア～エのできごとを、起こった順に並べたときに、**2番目**に来るものはどれですか。記号で答えなさい。

ア. 広島に原子爆弾が投下され、一瞬で数万人もの人が亡くなった。

イ. 東京大空襲で多くの人々の命がうばわれた。

ウ. 日本と戦争をしないという条約を結んでいたソビエト連邦が条約を破り、攻め込んできた。

エ. アメリカ軍が沖縄に上陸して、住民を巻き込んで地上戦が行われた。

問5 下線部⑤は、日本国憲法の前文と第何条に書いてありますか。答えなさい。

問6 二重下線部Xについて、過去に、天皇中心の政治体制がつくられたことがあります。これについて述べた次の文の(※)にあてはまる語句を答えなさい。

645年、中大兄皇子(のちの天智天皇)と中臣鎌足(のちの藤原鎌足)らが蘇我氏をほろぼした後、新しい国づくりが進められた。具体的には、土地や人民は天皇のものとし、戸籍をつくって国が土地を分け与える制度をつくり、税の制度を整えるなどした。これらの改革を「(※)」という。

問7 二重下線部Yについて、過去に日本が取り入れた外国の文化に関連して述べた次のア～エから、**あやまっているもの**を一つ選び、記号で答えなさい。

- ア. 戦国時代にスペインの宣教師ザビエルが日本にキリスト教を伝えたが、その後、江戸時代にはキリスト教は禁止された。
- イ. 江戸時代の半ばに、医師の杉田玄白らがオランダ語の医学書を日本語にほんやく翻訳し、『解体新書』と名付けて出版した。
- ウ. 奈良時代、聖武天皇は小野妹子を中国に送り、中国の文化や政治のしくみを取り入れようとした。これを遣隋使という。
- エ. 古墳時代に大陸から移住してきた人々によって、漢字や仏教が伝えられた。

2 次のA～Dは、ある都道府県都道府県の自然や産業・文化などをあげたものです。これについて、あとの問いに答えなさい。

A

- ・香川県と瀬戸大橋で結ばれている。
- ・果樹栽培が盛ん。
- ・倉敷市で石油化学工業が盛ん。

B

- ・知多半島と渥美半島。
- ・中京工業地帯の中心。
- ・瀬戸市の瀬戸焼が有名。

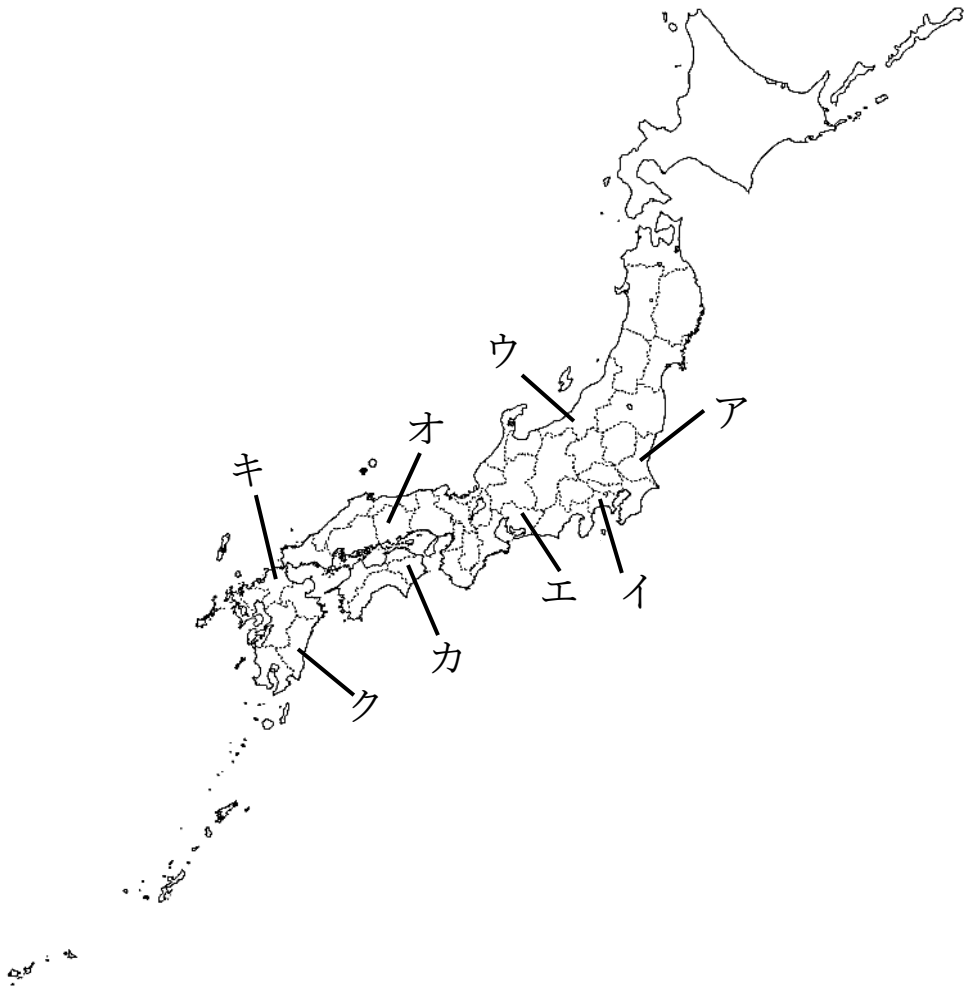
C

- ・筑紫平野で稲作が盛ん。
- ・明治時代に 製鉄所がつくられた。
- ・昔から中国・朝鮮との交流の窓口。

D

- ・東京湾・相模湾に面している。
- ・京浜工業地帯。
- ・鎌倉の大仏が有名。

問1 A～Dの都道府県の位置を、下の地図中のア～クからそれぞれ選び、記号で答えなさい。

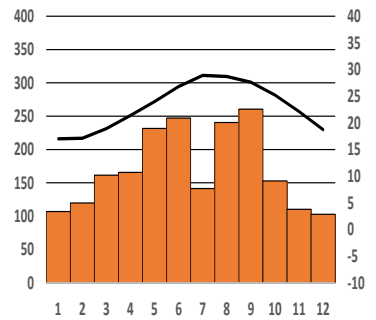
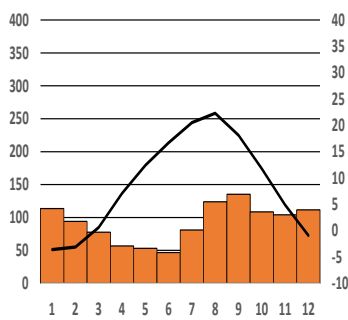
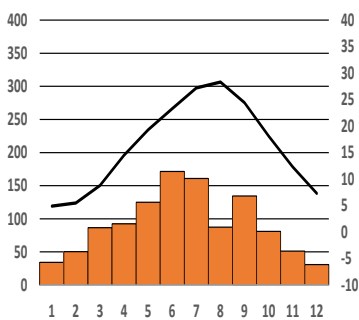


問2 Aの都道府県庁所在都市の気温と降水量のグラフとして正しいものを次のア～ウから一つ選び、記号で答えなさい。

ア.

イ.

ウ.



(グラフの左軸は降水量(mm)、右軸は気温(°C)、下辺は各月をあらわす)

問3 Bの中京工業地帯最大の輸出品として正しいものを次のア～エから一つ選び、記号で答えなさい。

ア. 自動車 イ. 集積回路 ウ. 精密機械 エ. プラスチック

問4 Cの①にあてはまるものを次のア～エから一つ選び、記号で答えなさい。

ア. 釜石 イ. 呉 ウ. 神戸 エ. 八幡

問5 次の文の空らん※にあてはまる語を答えなさい。

「A～Dの県庁所在都市はいずれも工業が盛んであるが、これらは他の都市とともに、※と呼ばれる、海沿いに帯のように連なる、工業の盛んな地域を形成している。」

3 次の文を読み、あとの問いに答えなさい。

A国際連合は、(1) が終わった1945年に、世界の平和を守ることを目的として、51か国が加盟してつくられました。現在は世界のほとんどの(2) 以上の国々が加盟しています。日本は1956年に加盟し、Bその主要な一員となっています。

問1 文中の(1)にあてはまる戦争を答えなさい。

問2 文中の(2)にあてはまる数字として最もふさわしいものを次のア～エから一つ選び、記号で答えなさい。

ア. 150 イ. 170 ウ. 190 エ. 210

問3 下線部Aについて、次の①～③は国際連合の機関についての説明です。その機関名としてふさわしいものを次のア～エからそれぞれ選び、記号で答えなさい。

①世界の全ての子どもたちが、平和で健康に暮らし、自分の能力を伸ばせるように、「子どもの権利条約」にもとづいた支援活動をする。

②飢えや貧困とたたかうために、食糧支援を行う。

③教育や科学、文化の協力や交流を通して、世界の平和に役立つことを目的としている。

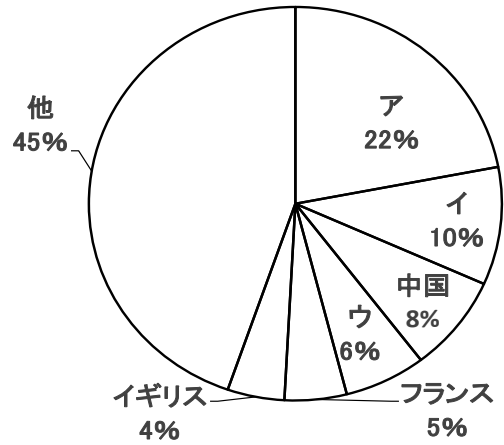
ア. UNICEF イ. UNHCR

ウ. UNESCO エ. WFP

問4 下線部Bについて、

I 日本が非常任理事国をつとめる、世界の平和と安全を維持する機関を漢字で答えなさい。

II 次のグラフは国連を運営するために各国が分担している金額の割合をしめしたものです。日本はグラフ中のア～ウのどれか答えなさい。



(2016年 外務省 HP「キッズ外務省」より)

4 次の新聞記事を読み、あとの問いに答えなさい。

◆高齢者人口と総人口に占める割合の推移



総務省は18日の「敬老の日」に合わせ、65歳以上の日本の高齢者人口(9月15日現在)の推計を発表した。総人口が前年と比べて21万

90歳以上初の200万人

人口推計 65歳以上最多3514万人

人減る一方、高齢者は57万人増の3514万人、総人口に占める割合は0.5%増の27.7%となり、いずれも過去最高を更新した。高齢者の割合は世界で最も高く、90歳以上の人口も初めて200万人を突破した。

性別で見ると、65歳以上の男性は1525万人で、男性人口に占める割合は24.7%。女性は1988万人で30.6%と、2年連続で3割を超えた。年代別では70歳以上が91万人増の2519万人(総人口に占める割合は19.9%)。国民の5人に1人が70歳以上となる計

算だ。80歳以上は37万人増の1074万人(8.5%)、90歳以上は14万人増の206万人(1.6%)だった。

一方で、高齢化の進展に伴い、社会保障費の伸びをどう抑えるかが課題となっている。来年度予算では約6300億円の自然増が見込まれる。社会保障費の大部分を所管する厚生労働省は、来年度予算で31兆4298億円を概算要求した。

推計によると、働く高齢者は13年連続で増え、2016年の就業者数は前年比38万人増の770万人で過去最多となった。

(読売新聞 朝刊 1面 平成29年9月18日)

問 上の記事の内容と合っているものを次のア〜クから^{すべて}全て選び、記号で答えなさい。

- ア. 働く高齢者は、高齢者全体の30%を超えている。
- イ. 日本の総人口は前年と比べて増加した。
- ウ. 社会保障費は年々増加している。
- エ. 日本の総人口に占める高齢者の割合は2割を超えている。
- オ. 男性人口に占める65歳以上の男性の割合は30%以上である。
- カ. 女性人口に占める65歳以上の女性の割合は30%以上である。
- キ. グラフによると、2005年の高齢者人口は2000万人を超えている。
- ク. 国民の約5人に1人が80歳以上である。