

令和5年度 第1回 中学入学試験

社 会

試験開始の合図があるまで、この問題冊子の中を見てはいけません。

注意事項

1. 問題冊子と解答用紙を回収するので、両方に受験番号・氏名を記入すること。
2. この問題冊子は、8ページあります。
3. 問題冊子や解答用紙によごれや印刷されていないところがあったら、
手を挙げて試験監督かんとくを呼ぶこと。
4. 解答はすべて、解答用紙へ記入すること。

受験 番号					氏名
----------	--	--	--	--	----

1 次のA～Cは歴史上の人物についての説明です。これらを読んで、あとの問いに答えなさい。

A 私はスペインの宣教師です。1534年私は友人たちとともに、キリスト教（カトリック）を守るため、イエズス会を結成しました。私はインドや東南アジアで布教活動を行ったのち、1549年鹿児島に上陸して、日本に初めてキリスト教を伝えました。私は①大名の保護を受けながら、②平戸、山口、京都などを回って布教活動を行いました。

問1 Aの文中の「私」の名を答えなさい。

問2 下線部①について、大名たちが、キリスト教を保護した理由を説明しなさい。

問3 下線部②について、平戸にあったオランダ商館は長崎港内につくられた扇形の人工島に移されました。この人工島の名を漢字で答えなさい。

B 私はアメリカ合衆国の東インド艦隊司令長官です。1853年私は4隻の軍艦を率いて神奈川県（③）に来航し、江戸幕府に開国を求める大統領の手紙を渡しました。翌年私は再び日本に来航し、幕府との間に④日米和親条約を結びました。

問4 Bの文中の「私」の名を答えなさい。

問5 空らん③にあてはまる地名を漢字で答えなさい。

問6 下線部④について、この条約で開港が決まった港として正しいものを、次のア～カからすべて選び、記号で答えなさい。

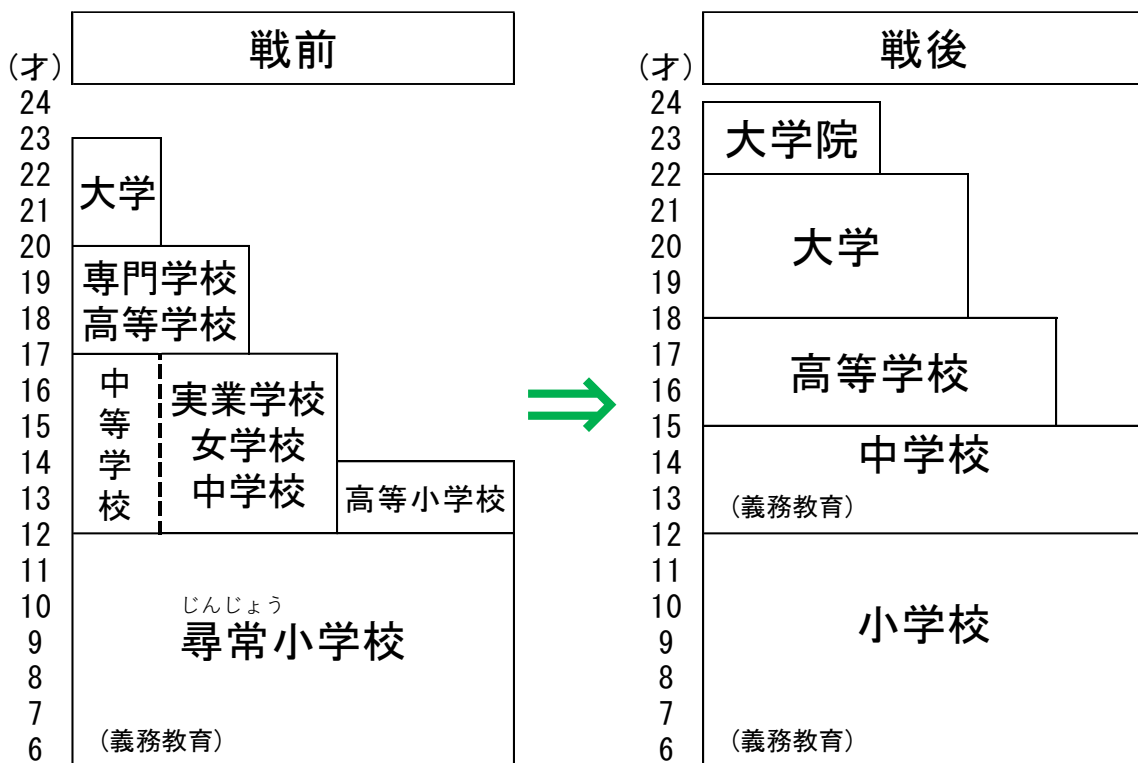
ア. 神戸 イ. 下田 ウ. 長崎 エ. 新潟 オ. 函館 カ. 横浜

C 私はアメリカ合衆国の軍人です。第二次世界大戦ではアメリカ極東軍司令官として対日戦を指揮しました。日本の降伏後、私は⑤連合軍最高司令官総司令部の最高司令官として、日本の占領と⑥民主化政策を指導しました。

問7 Cの文中の「私」の名を答えなさい。

問8 下線部⑤について、連合軍最高司令官総司令部の通称をアルファベット3字で答えなさい。

問9 下線部⑥について、下の図は民主化政策の1つとして行われた教育改革によって変化した教育制度を表したものです。この図から分かる変化について説明した文としてあやまっていまするものを、次のア～オから1つ選び、記号で答えなさい。



- ア. 戦後、義務教育の年数が増やされた。
- イ. 戦後、中学校も義務教育となった。
- ウ. 戦後、大学の修学年限が4年となった。
- エ. 戦前、小学校は尋常小学校と言った。
- オ. 戦前、女子教育は6年間で終わりだった。

2 AさんとBさんは、「国会・内閣・裁判所」について問題を出し合うことになりました。次の文章はその様子をしめしたものです。これを読んで、あとの問いに答えなさい。

Aさん：「まずは私からね。国会が持つ権利は何でしょう？」

Bさん：「(①) 権！」

Aさん：「正解！では、次はBさんの番ね。」

Bさん：「うん！国会は衆議院と参議院の二院制だけど、解散があるのはどっち？」

Aさん：「うーん。どうだったかな？ (②)」

Bさん：「正解！よく思い出せたね！！Aさん、次は内閣についての問題を出して！！」

Aさん：「わかった！内閣の中心となるのは？」

Bさん：「首相！」

Aさん：「そう！正確にいうと (③) というね。内閣は (③) だけをさすわけじゃなくて、X国務大臣もふくまれているよね。」

Bさん：「では、次は裁判所！！裁判は何回までできるでしょう？」

Aさん：「3回！」

Bさん：「正解！では、次の問題。最高裁判所の長官を指名するのは？」

Aさん：「(④) ！」

Bさん：「正解！そういえば、ふと思ったんだけど、裁判官をやめさせるために置かれる弾劾裁判所というものがあるよね。あれも裁判所にふくまれるのかな？」

Aさん：「(⑤)」

Bさん：「そうだったんだ。教えてくれてありがとう！！」

Aさん：「では、次の問題ね。2009年から国民が裁判に参加する制度が始まったけれど、これを何という？」

Bさん：「(⑥) 制度！」

Aさん：「正解！」

Bさん：「この制度で、国民は裁判と深くかかわるようになったんだね。国民と裁判所との関係といえば、最高裁判所の裁判官がふさわしいかどうかを国民が判断する制度があるよね。これを何という？」

Aさん：「国民審査だね！」

Bさん：「正解！では、これで最後の問題にしよう。国の権力が一つの機関に集中しないように、国会・内閣・裁判所が役割を分担するしくみのことを何という？」

Aさん・Bさん：「せーの！ (⑦) ！！」

問1 空らん（①）にあてはまる語として正しいものを、次のア～ウから1つ選び、記号で答えなさい。

ア. 行政 イ. 司法 ウ. 立法

問2 空らん（②）にあてはまる文として正しいものを、次のア～ウから1つ選び、記号で答えなさい。

ア. 衆議院だったっけ？ イ. 参議院だったっけ？ ウ. 両方ともだったっけ？

問3 空らん（③）にあてはまる語を**漢字6字**で答えなさい。

問4 空らん（④）にあてはまる語として正しいものを、次のア～ウから1つ選び、記号で答えなさい。

ア. 国会 イ. 裁判所 ウ. 内閣

問5 空らん（⑤）にあてはまる文として正しいものを、次のア・イのいずれかから選び、記号で答えなさい。

ア. うん。ふくまれるよ。 イ. いや、ふくまれないよ。

問6 空らん（⑥）にあてはまる語を答えなさい。

問7 空らん（⑦）にあてはまる語を**漢字4字**で答えなさい。

問8 下線部Xについて、国務大臣は主に担当する省の大臣や庁の長官として、仕事をしていきます。地方自治や通信などにかかわることを仕事とする省庁として正しいものを、次のア～オから1つ選び、記号で答えなさい。

ア. 文部科学省 イ. 厚生労働省 ウ. 総務省 エ. 文化庁 オ. 宮内庁

3 次の和子さんの発表を読んで、あとの問いに答えなさい。

[和子さんの発表]

今年の主要国首脳会議(G7、サミット)は5月に①広島で開催される予定です。広島市は開催の意義として次の3つのようなことをあげています。

☆参加者に被爆の状況や平和への思いを共有してもらい、(②)が二度と使われることなく廃絶されていくきっかけになることを期待している。

☆平和の象徴としての広島を世界に発信することで、平和に対する意識を高める。

☆③広島の自然、文化、産業などの魅力をアピールすることで、経済の活性化につながる。

問1 下線部①について、広島県のかたちとして正しいものを、次のア～エから1つ選び、記号で答えなさい。なお、縮尺は一定ではありません。

ア.



イ.



ウ.



エ.



問2 空らん(②)にあてはまる語を答えなさい。

問3 下線部③について、広島県の説明として正しいものを、次のア～カから**すべて**選び、記号で答えなさい。

ア. 海岸沿いに大規模な砂丘が広がっている。

イ. 世界遺産が2つある。

ウ. かき(魚介類)の生産量が日本第1位である。

エ. みかんの生産量が日本第3位である。

オ. 自動車工業がさかんで、輸送用機械の生産は上位5県にふくまれる。

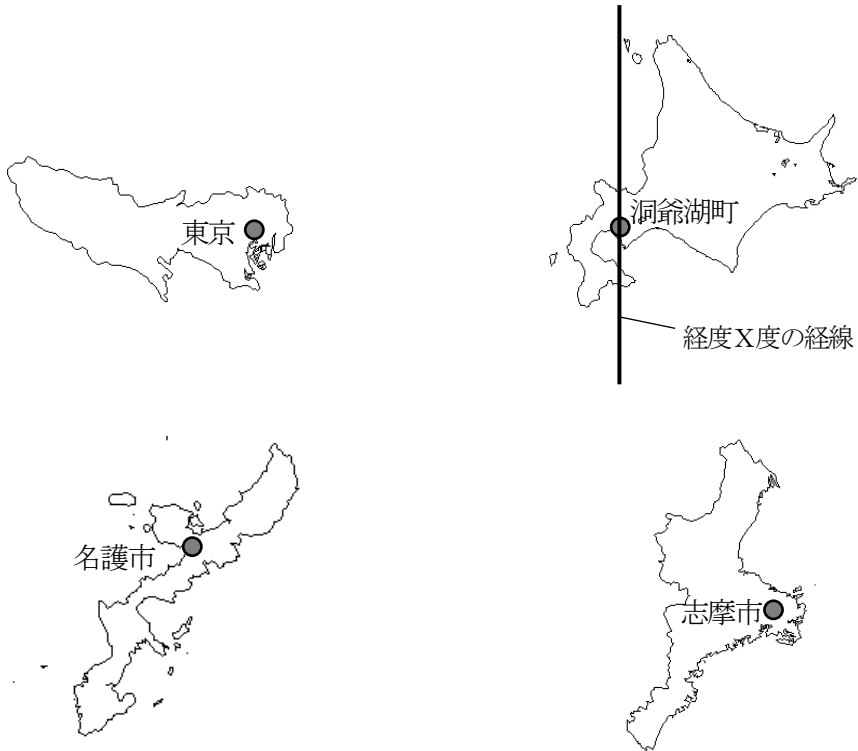
カ. 石油化学工業がさかんで、水島地区には大規模なコンビナートがある。

問4 主要国首脳会議は、日本ではこれまでに6回開催されました。これについて、図表を見ながら次のⅠ～Ⅲの問いに答えなさい。

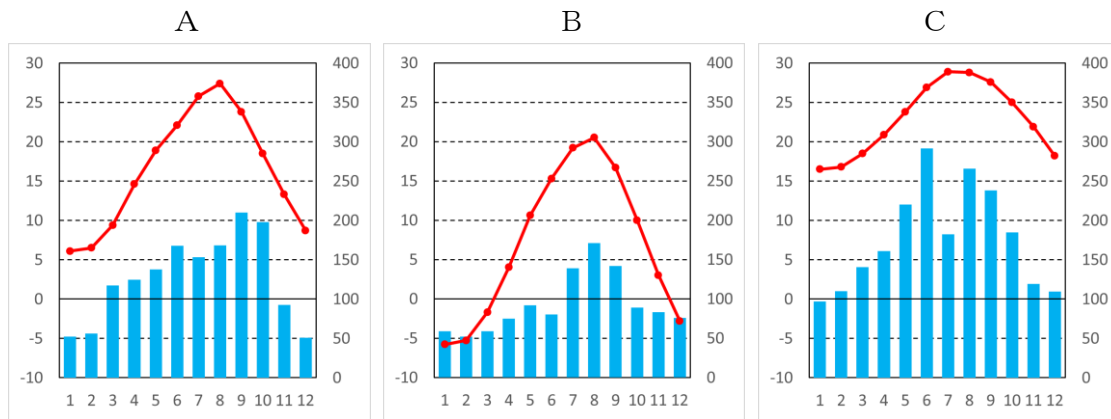
<表 日本で開催された主要国首脳会議>

回	年	開催地
5	1979	東京（東京都）
12	1986	東京（東京都）
19	1993	東京（東京都）
26	2000	名護市（沖縄県）
34	2008	洞爺湖町（北海道）
42	2016	志摩市（三重県）

<図 開催地の位置> *縮尺は一定ではありません。



I 会議が開催された東京、名護市、洞爺湖町について、それぞれの都市名と、気温と降水量を表した次のグラフA～Cの組み合わせとして正しいものを、次のア～カから1つ選び、記号で答えなさい。



(グラフの左軸は気温(°C)、右軸は降水量(mm)、下辺は各月をあらわす)

- | | | |
|-------------|----------|----------|
| ア. A : 東京 | B : 名護市 | C : 洞爺湖町 |
| イ. A : 東京 | B : 洞爺湖町 | C : 名護市 |
| ウ. A : 名護市 | B : 洞爺湖町 | C : 東京 |
| エ. A : 名護市 | B : 東京 | C : 洞爺湖町 |
| オ. A : 洞爺湖町 | B : 東京 | C : 名護市 |
| カ. A : 洞爺湖町 | B : 名護市 | C : 東京 |

II 図中の「洞爺湖町を通る経度X度の経線」と他の都市の位置関係について、正しく説明しているものを、次のア～エから1つ選び、記号で答えなさい。

- ア. 東京だけが経度X度より東に位置し、志摩市と名護市は西に位置している。
- イ. 東京と志摩市が経度X度より東に位置し、名護市だけが西に位置している。
- ウ. 3つの都市すべてが経度X度よりも東に位置している。
- エ. 3つの都市すべてが経度X度よりも西に位置している。

III 次の①・②は会議開催地のある都道府県にあてはまるかどうか、下のア～エからふさわしいものをそれぞれ選び、記号で答えなさい。

- ①人が住んでいる場所として最も南に位置している。
- ②高度経済成長期に四大公害病が発生した。

- | | | | |
|--------|--------|--------|--------|
| ア. 東京都 | イ. 沖縄県 | ウ. 北海道 | エ. 三重県 |
|--------|--------|--------|--------|

4 次の新聞記事を読み、あとの問いに答えなさい。

18歳成人きょうから ローン・携帯契約可能に

146年ぶり変更

改正民法が1日施行され、**18歳**だった成人年齢が18歳に引き下げられた。ローンを組むなどの契約が18歳から可能となる。喫煙や飲酒、公営ギャンブルは引き続き**20歳**未満は禁止される。

民法の成人年齢に関する規定変更は146年ぶり。明治以来続いた成人の定義を変えることで、若者の自立を促し、社会の活性化を図る狙いがある。経済協力開発機構（OECD）加盟のほとんどの国が「18歳成人」を採用しており、国際

標準に合わせた動きだ。具体的には、親の同意なしに携帯電話やクレジットカードなどが契約可能となる。

る。ただ、契約取り消しが簡単にできなくなるため、消費者トラブルの若年化を懸念する声が出ている。有効期間10年のパスポートも取得できる。女性が結婚できる年齢は16歳から男性と同じ18歳になる。

改正少年法も施行され、事件を起こした18、19歳を「特定少年」と位置づけ、一定の厳罰化を図る。

△関連記事3・33面▽

(読売新聞 朝刊1面 令和4年4月1日 一部改変)

問1 上の記事の**18**にあてはまる数字を答えなさい。

問2 上の記事を読んで、この中に書かれている内容で何に関心がありますか。その関心のある記事の部分をぬきだし、その理由もあわせて書きなさい。

令和5年度 第1回 入学試験 社会解答用紙 和洋九段女子中学校

受験番号

--	--	--	--

氏名

--

1	問 1												
	問 2												
	問 3				問 4				問 5				
	問 6				問 7				問 8				
2	問 1			問 2			問 3						
	問 4			問 5			問 6						
	問 7				問 8								
	3	問 1			問 2					問 3			
問 4		I	II		III ①		②						
4		問 1											
	問 2												

関心のある部分

選んだ理由

問
2