

令和8年度 第2回 中学入学試験

社 会

試験開始の合図があるまで、この問題冊子の中を見てはいけません。

注意事項

1. 問題冊子と解答用紙を回収するので、両方に受験番号・氏名を記入すること。
2. この問題冊子は、16 ページあります。
3. 問題冊子や解答用紙によごれや印刷されていないところがあったら、
手を挙げて試験監督かんとくを呼ぶこと。
4. 解答はすべて、解答用紙へ記入すること。

受験 番号					氏名
----------	--	--	--	--	----

1 次の表は、歴史上のできごとや用語などに地名がついているものを時代ごと*にならべたものです。これらについてあとの問いに答えなさい。なお、地名の部分は**太字**になっています。

※時代によって、できごとや用語らんが空らんものがあります。

時代	できごとや用語
(1) <u>古墳時代</u>	大和 朝廷 (政権)
(2) <u>飛鳥時代</u>	
(3) <u>奈良時代</u>	
(4) <u>平安時代</u>	(5) 壇ノ浦 の戦い
鎌倉時代	(6) 鎌倉 幕府
(7) <u>室町時代</u> (戦国時代)	室町 幕府 (8) 長篠 の戦い
安土桃山時代	関ヶ原 の戦い
江戸時代	江戸 幕府 (9) 島原・天草 一揆 (10) 出島
明治時代	(11) 富岡 製糸場 八幡 製鉄所
大正時代	(12) 関東 大震災
昭和時代	(13) 沖縄 戦 東京 オリンピック・パラリンピック
平成時代	(14) 阪神・淡路 大震災

問1 下線部(1)について、古墳について説明した文として**あやまっているもの**を、次のア～エから一つ選び、記号で答えなさい。

- ア. 古墳のまわりには はにわがかざられていた。
- イ. 古墳はその地域を支配していた豪族の墓である。
- ウ. 古墳は北海道から沖縄の各地につくられていた。
- エ. 大仙古墳 (大阪府) は日本で最大の前方後円墳である。

問2 下線部(2)・(3)・(4)について、次のア～エは、飛鳥時代から平安時代にかけての主なできごとです。時代の古い順にならびかえ、記号で答えなさい。

- ア. 聖徳太子（厩戸王）が政治の改革を行った。
- イ. 聖武天皇の命令により、東大寺の大仏がつくられた。
- ウ. 中大兄皇子と中臣鎌足によって、大化の改新が行われた。
- エ. 藤原道長が政治を行い、藤原氏が栄えた。

問3 下線部(3)・(4)について、これらの時代にはそれぞれ平城京・平安京がつけられましたが、現在の何市にありましたか。次のア～カから一つ選び、記号で答えなさい。

	平城京	平安京
ア.	京都市	大津市
イ.	京都市	奈良市
ウ.	大津市	京都市
エ.	大津市	奈良市
オ.	奈良市	京都市
カ.	奈良市	大津市

問4 下線部(5)について、この戦いを簡単に説明した文として正しいものを、次のア～エから一つ選び、記号で答えなさい。

- ア. 元と幕府との戦いのこと。
- イ. 2度にわたる朝鮮との戦いのこと。
- ウ. 平氏と源氏との戦いのこと。
- エ. 有力な守護大名どうしの戦いのこと。

問5 下線部(6)について、鎌倉幕府に関する次の文を読み、下線部①～④のうち、**あやまっている番号**を一つ選び、正しい語句に直しなさい。

1192年、源頼朝は①征夷大將軍に任命され武士をしたがえる最高の地位につきました。鎌倉幕府は、將軍と②御家人とのご恩と③奉公という強い結びつきによって成り立っていました。しかし、源氏の將軍がとだえると、將軍を助ける役職である④守護についていた北条氏が、幕府の政治を進めていきました。

問6 下線部(7)について、室町時代の文化に関して説明した文として**あやまっているもの**を、次のア～エから一つ選び、記号で答えなさい。

- ア. 足利義満は京都の北山に、2・3層に金ぱくをはりつめた豪華な金閣を建てた。
- イ. たたみ、障子、ふすまなどを使った日本独自の建築様式が広がり、このような部屋のつくりを書院造という。
- ウ. 墨だけを使って絵をえがく水墨画の技法は、雪舟が日本ふうの様式を完成させた。
- エ. 能は観阿弥・世阿弥の父子が、室町幕府3代将軍の足利義政の保護を受けて完成させた。

問7 下線部(8)に関連して、この時代に活躍した織田信長・豊臣秀吉・徳川家康の3人の武将は、その後の全国統一に大きな役割を果たしました。次のI・IIに答えなさい。

I 3人の武将が拠点とした城の正しい組合せを、次のア～カから一つ選び、記号で答えなさい。

	織田信長	豊臣秀吉	徳川家康
ア.	安土城	江戸城	大阪城
イ.	安土城	大阪城	江戸城
ウ.	江戸城	安土城	大阪城
エ.	江戸城	大阪城	安土城
オ.	大阪城	安土城	江戸城
カ.	大阪城	江戸城	安土城

II 織田信長の政治の進め方を説明した文として正しいものを、次のア～オから**すべて選び**、記号で答えなさい。

- ア. 刀狩令を出して武器を取り上げた。
- イ. 商工業をさかんにすることに力を入れた。
- ウ. 征夷大將軍に任命され、幕府を開いた。
- エ. 力をもっていた仏教勢力を武力でおさえた。
- オ. 村ごとに検地を行った。

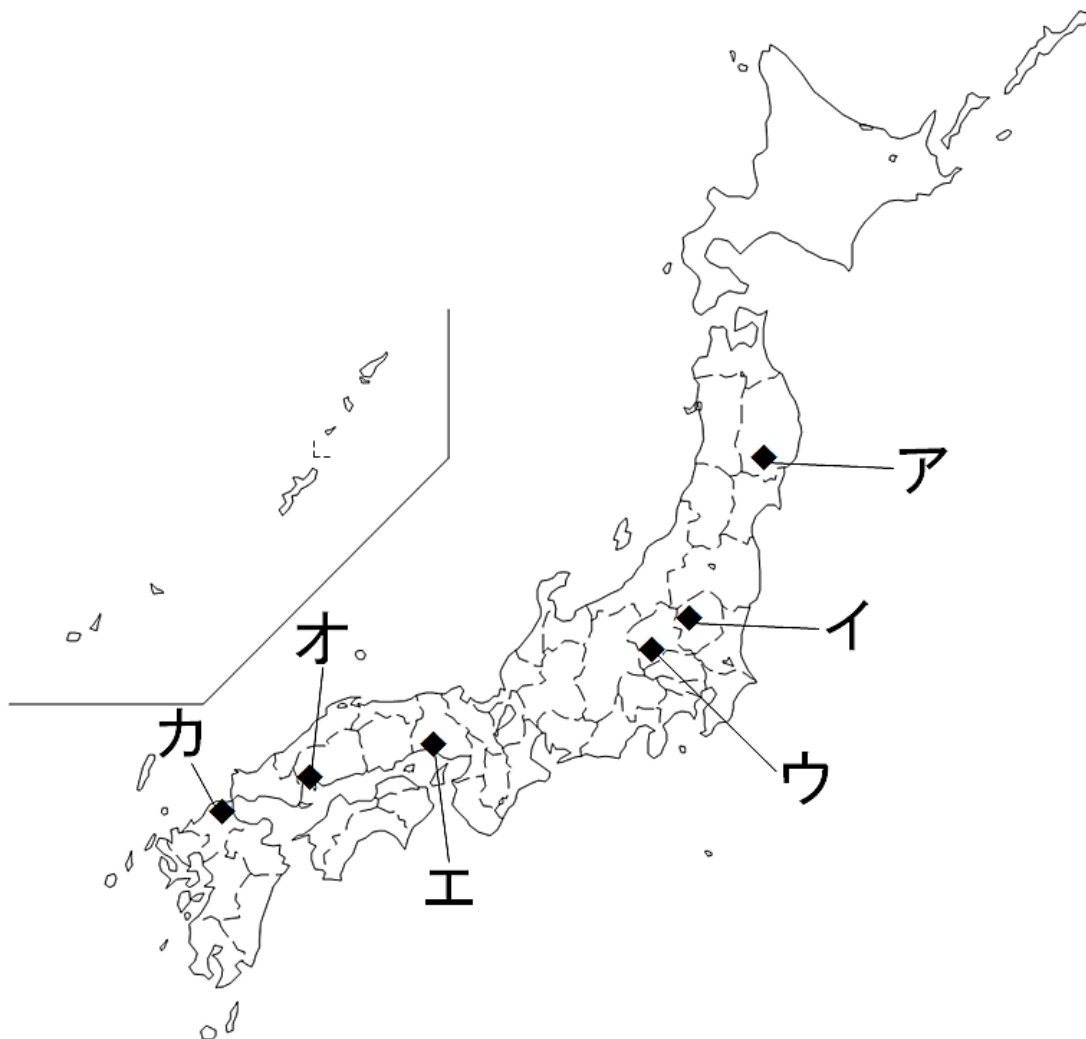
問8 下線部(9)について、島原・天草一揆について説明した文①・②を読み、正しい・あやまっているの組み合わせとして正しいものを、次のア～エから一つ選び、記号で答えなさい。

- ① 人びとは天草四郎を中心として幕府軍と戦った。
- ② 仏教に対する厳しい取りしまりに人びとが反対して一揆が起こった。

- ア. ①:正しい ②:正しい イ. ①:正しい ②:あやまっている
- ウ. ①:あやまっている ②:正しい エ. ①:あやまっている ②:あやまっている

問9 下線部(10)に関連して、江戸幕府は、貿易の相手を中国とオランダの商人に限り、貿易港も長崎だけとしました。このような状態を何というか答えなさい。

問10 下線部(11)について、この場所を下の地図のア～カから選び、記号で答えなさい。



問11 下線部(12)について、次のア～エのうち、関東大震災のあとのできごとを一つ選び、記号で答えなさい。

- ア. 国際社会の平和と安全を守ろうとする組織として、国際連盟がつくられた。
- イ. 米の安売りを求める民衆の運動（米騒動）が全国に広がった。
- ウ. 第一次世界大戦が起こった。
- エ. 25才以上の男性すべてに選挙権が認められた。

問 12 下線部(13)に関連して、次のア～エは、太平洋戦争末期の主なできごとです。時代の古い順にならびかえ、記号で答えなさい。

ア. アメリカ軍が沖縄島に上陸し、住民を巻き込んだ激しい地上戦が始まった。

イ. 昭和天皇がラジオ放送で日本の降伏を伝えた。

ウ. 長崎に原子爆弾が投下された。

エ. 東京ではアメリカ軍の爆撃機により大規模な空襲（東京大空襲）がおこなわれた。

問 13 下線部(14)について、この震災は今から何年前に起こりましたか。次のア～エから一つ選び、記号で答えなさい。

ア. 約 15 年前

イ. 約 20 年前

ウ. 約 25 年前

エ. 約 30 年前

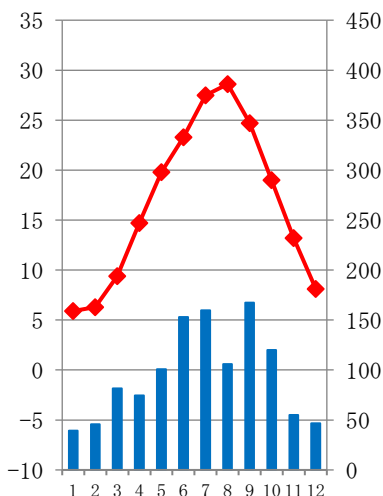
(余白 問題は次のページに続きます)

2 次の各文 (A) ~ (C) は、ある県について説明したものです。これを読み、あとの問いに答えなさい。

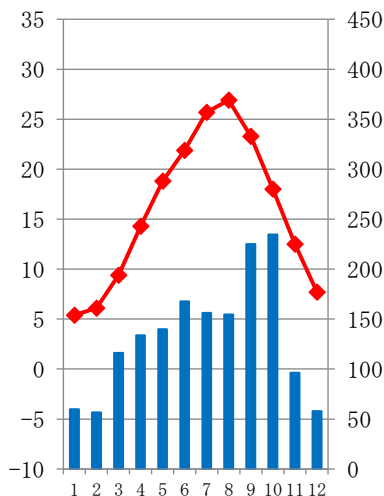
(A) は、中国地方に位置し、①瀬戸内の気候の影響で農業が盛んです。特に、レモンの生産量が多く、国内でも有数の産地です。また水産業の面では、(②) の養殖が特に盛んで、(②) の収穫量は日本一です。県庁所在地は約 120 万人が暮らす都市で、江戸時代には城下町として栄えました。また、③1945 年に原子爆弾が投下され、多くの人々が被害を受けましたが、現在は平和都市として国際的にも知られています。

問1 下線部①について、この気候をあらわした気温と降水量のグラフとして正しいものを、次のア～エから一つ選び、記号で答えなさい。

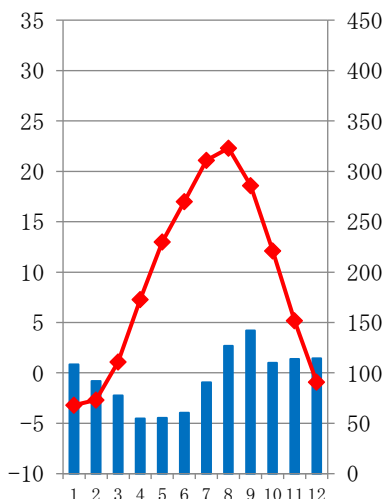
ア.



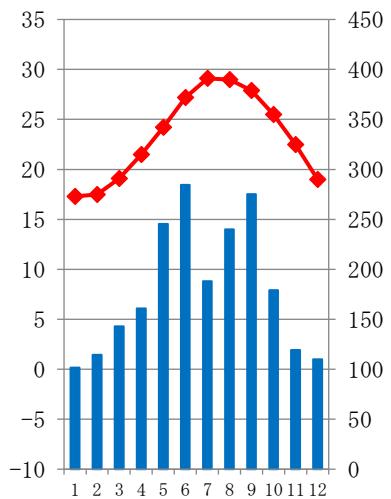
イ.



ウ.



エ.



(グラフの左軸は気温(°C)、右軸は降水量(mm)、下辺は各月をあらわす)

問2 文中の空らん(②)に当てはまる語句として正しいものを、次のア～エから一つ選び、記号で答えなさい。

ア. まぐろ イ. うなぎ ウ. こんぶ エ. かき

問3 下線部③に関して、原子爆弾が投下された近くにある原爆ドームは世界遺産になっています。(A)の県にある原爆ドーム以外の世界遺産を答えなさい。

(B)は、東北地方に位置し、県庁所在地の(④)市を中心に発展しています。⑤県内には広い平野と多くの川があり、米作りを中心とした農業が盛んです。(④)市は東北地方で最大の都市で、杜の都と呼ばれています。また、⑥2011年には大きな地震と津波に見舞われましたが、防災や復興の取り組みが進められています。

問4 文中の空らん(④)に当てはまる都市の名前を答えなさい。

問5 下線部⑤について、この県の北東部を通り、太平洋に流れ込む川を答えなさい。

問6 下線部⑥について、この地震が発生した月日を答えなさい。

(C)は、(⑦)地方に位置し、東京湾や相模湾に面しています。東京湾に面した地域では、自動車や電気機械などの工業が盛んです。また、⑧県庁所在地や工業が盛んな都市の人口は多く、⑨都心への通勤者や通学者の居住地としても発展しています。観光地としては、箱根や江の島が有名で、多くの人を訪れます。

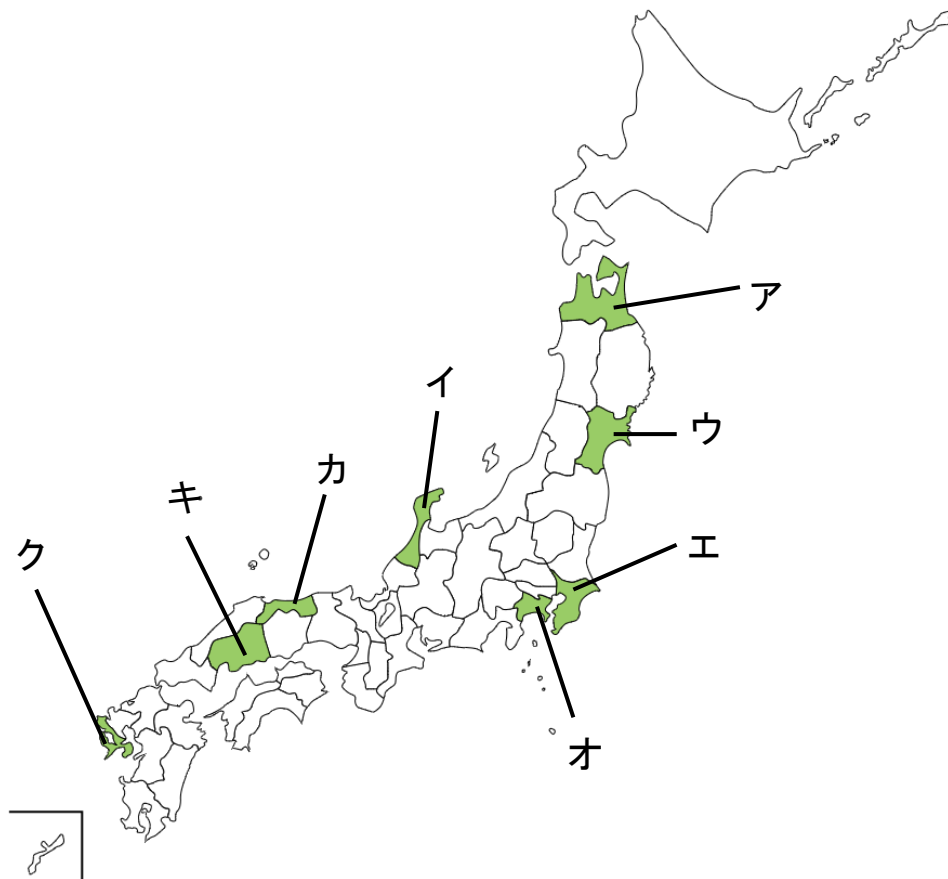
問7 文中の空らん(⑦)に当てはまる語句を答えなさい。

問8 下線部⑧について、(C)の県庁所在地を答えなさい。

問9 下線部⑨について、このように大都市の周辺にあり、多くの住民が大都市へ通勤・通学する地域を何といいますか。正しいものを、次のア～エから一つ選び、記号で答えなさい。

ア. スラム イ. ダウンタウン ウ. ベイエリア エ. ベッドタウン

問10 (A)～(C)の県名をそれぞれ答えなさい。またその県の位置として正しいものを下の地図のア～クから一つずつ選び、それぞれ記号で答えなさい。



(余白 問題は次のページに続きます)

3 次の文を読み、あとの問いに答えなさい。

昨年は、「モノの値段」が話題になることが多い年でした。以前からお店の商品の値段が上がっているということは言われていました。原因はたくさんありますが、その1つには約4年前に始まった、①ロシアのウクライナへの軍事侵攻があげられます。日本は多くの食料や資源を②世界中の国々から輸入している国です。エネルギー資源も同様なので、③電気・ガス・ガソリンなども値段が上がっています。

そもそもモノの値段は、多くの場合、④ある商品を買う人と売る人の間での商品とお金のやり取りの中で決まってきます。つまり、売る量が多い場合だと値段は（ 1 ）なり、ほしい人が多い場合だと値段は（ 2 ）なります。⑤人気商品や入手困難な限定商品を買い占め、フリマサイトなどで売る人がいて、社会問題になっています。こうした問題を解決するためには、⑥企業（会社）の努力だけでなく買う人の⑦モラルも大切です。昨年は、主食であるお米の値段も高くなったことが話題にあがりました。政府は対策として、非常時や⑧自然災害時用の備蓄米を売ることにしました。

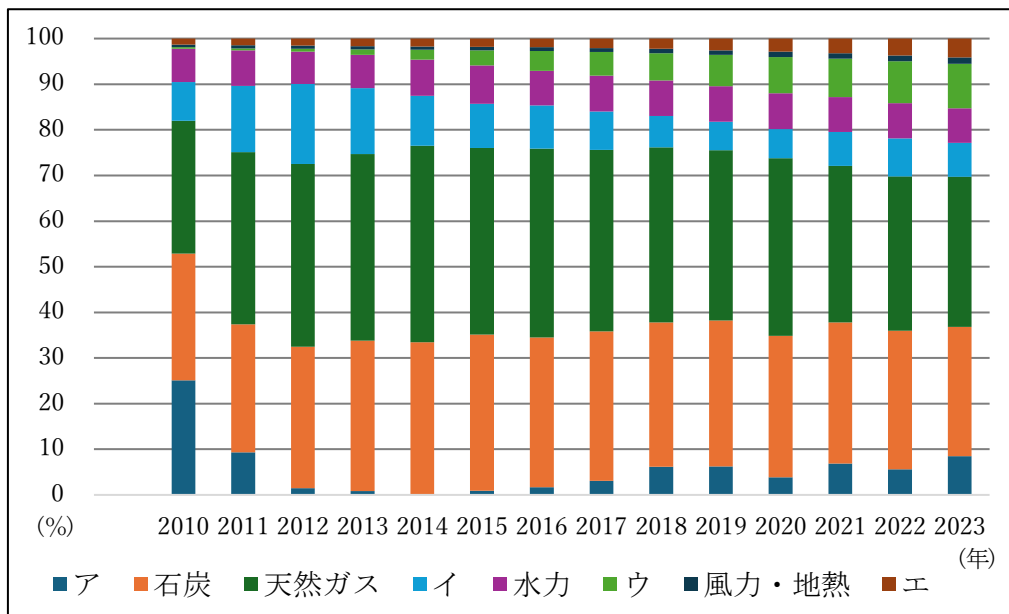
昨年行われた⑨参議院議員選挙では、人々が自由に使えるお金を増やすことが争点の1つになりました。⑩お金は現在の社会において、必要不可欠なものです。選挙の結果を受けて、自由に使えるお金が増えるかどうか、⑪国会での話し合いの行方を注意することが必要です。

問1 下線部①に関して、世界中で戦禍が続いています。日本国憲法第9条では平和について次のように書かれています。第9条の空らん（ X ）・（ Y ）にあてはまる語句を漢字でそれぞれ答えなさい。

第9条 日本国民は、正義と秩序を基調とする国際平和を誠実に希求し、
国権の発動たる戦争と、（ X ）による威嚇又は（ X ）の
行使は、国際紛争を解決する手段としては、永久にこれを放棄する。
2 前項の目的を達するため、陸海空軍その他の戦力は、これを保持
しない。国の（ Y ）権は、これを認めない。

問2 下線部②に関して、現在世界中のほとんどの国々が国際連合に加盟しています。この国際連合について説明した文として正しいものを、次のア～エから一つ選び、記号で答えなさい。
ア. 第一次世界大戦が終わった後に、51カ国によってつくられ、国連憲章が定められた。
イ. 世界の平和と安全を守り、国同士の争いを平和的に解決するためにつくられた。
ウ. 安全保障理事会では、常任理事国と争いの関係国との話し合いで問題の解決を図る。
エ. 日本は、サンフランシスコ平和条約を調印して独立を果たした1951年に加盟した。

問3 下線部③について、下のグラフは国内の発電量の割合をしめしています。このうち、原子力発電をしめたものとして正しいものを次のア～エから一つ選び、記号で答えなさい。また、それを選んだ理由も説明しなさい。



出典：資源エネルギー庁 総合エネルギー統計より作成

問4 下線部④について、あなたが^{ふだん}普段の生活の中で経験する「やり取り」の具体例を1つあげなさい。

問5 文中の空らん（ 1 ）・（ 2 ）に当てはまる語句の組み合わせとして正しいものを次のア～エから一つ選び、記号で答えなさい。

- ア. (1) : 安く (2) : 高く イ. (1) : 安く (2) : 安く
 ウ. (1) : 高く (2) : 安く エ. (1) : 高く (2) : 高く

問6 下線部⑤について、こうした人のことを何というか。漢字とカタカナを使用して、**4字**で答えなさい。

問7 下線部⑥について、企業は商品売るためにさまざまな努力をしています。企業がおこなっている努力として、**あやまっている**文を次のア～エから一つ選び、記号で答えなさい。

- ア. 企業は、賞味期限が過ぎて捨てる商品を、できるだけ減らす工夫をしている。
 イ. 企業は働く人の提案や意見を取り入れて、改善する努力をしている。
 ウ. 企業は社会の変化にあわせて、新しい商品を開発しようとしている。
 エ. 企業はほかの企業が入手した個人情報を買って、広告を出している。

問8 下線部⑦に関して、次の文を読み、和子さんのこのあとの行動として最も適当な文を次のア～エから一つ選び、記号で答えなさい。

和子さんは、放課後に廊下^{ろうか}を走って児童会室へ向かっていました。
途中で曲がり角から低学年の児童が出てきて、ぶつかりそうになりました。
幸いけがはありませんでしたが、その場面を見た先生から「廊下は歩きましょう」と注意されました。

- ア. 先生の前では注意を聞くふりをし、次からも必要なときは走る。
- イ. ぶつかりそうになったので、低学年の児童に謝り、次回以降は気をつける。
- ウ. 先生に事情を説明し、今回は特例として許可してもらおう。
- エ. 低学年の児童にぶつからなかったのだから、これまで通りでよいと考える。

問9 下線部⑧について、自然災害による被害が予想される範囲^{はんい}などを表した地図のことを何と
いうか、答えなさい。

問10 下線部⑨に関して、国会や選挙について説明した文として**あやまっている**ものを次の
ア～エから一つ選び、記号で答えなさい。

- ア. 参議院は天皇によって召集^{しょうしゅう}され、天皇によって解散される。
- イ. 衆議院は参議院と同じで、話し合いの結果は多数決によって決まる。
- ウ. 国民主権をあらわすものが選挙であり、ほかにも国民審査などもある。
- エ. 選挙は自分たちの代表者を選ぶ仕組みで、18才以上の国民が投票できる。

問11 下線部⑩に関して、今日ではお店で支払い^{しはら}をする際、現金で支払う以外の方法も増えてい
ます。どのような支払方法がありますか。現金での支払い以外の方法を1つあげなさい。

問12 下線部⑪について、国会の仕事として正しい文を次のア～エから一つ選び、記号で答えな
さい。

- ア. 内閣総理大臣の指名と、国务大臣の任命をおこない内閣をつくらせる。
- イ. 内閣がおこなう政治が、憲法に違反^{いはん}していないかについて判断する。
- ウ. 裁判官をやめさせるかどうかの裁判を、三審制によっておこなう。
- エ. 国の収入と支出、外国と結んだ条約の承認などを決める。

(余白 問題は次のページに続きます)

4 次の新聞記事を読み、あとの問いに答えなさい。

食べ残し家にモッテコ!



個人経営のとんかつ店に掲示された「mottECO(モッテコ)」のポスター—東京都多摩市関戸で、いずれも中村好見撮影

「mottECO」を実施している企業の一部

- デニース
- ロイヤルホスト
- 和食さと
- 日本ホテル (東京ステーションホテルなど)
- びっくりドンキー
- 京王プラザホテル
- 大戸屋
- グルメ軒屋
- 名鉄ホテルグループ
- ホテル日航つくば
- 麒麟シティ

食品ロス削減 官民取り組み

また食べられるにもかかわらず捨てられた「食品ロス」は、2023年度の推計値で464万トに上る。おにぎりに換算すると約400億個分で、日本の総人口で1人あたり年間300個以上捨てている計算だ。外食産業では食べきれなかった料理を持ち帰る取り組みなども進むが、浸透しつつあるのか。

席上のタッチパネルに表しても好評という。示されたステーキやハンバーグなどのメニュー。パネを目的に、飲食店で食べきれなかった料理を「持ち帰る」の文字だ。大手ファミリーストラン「デニース」では、注文した料理を食べきれなかった時、持ち帰りの容器(49円)を注文できる。21年度から始めた取り組みで、年間の利用は約9万件。人気メニューでポリウムのあるアメリカンクラブハウスサンド「やちも用メニュー」の利用などが多く、アンケート

チェーン店参加増／個人店「手間」

インやホテルなど全国約1230店舗が参加し、82トの食品ロスを減らすことに成功したという。

食中毒自己責任

持ち帰りでは、食中毒が起きた場合の責任の所在が飲食店側の懸念事項だった。そこで、厚生労働省と消費者庁は24年12月、食べ残しの持ち帰りを促進するためのガイドライン(指針)を策定。飲食店と消費者の双方に向けたもので、まずは「その場で食べきれないことを前提としつつ、消費者が食べきれなかったものを「自己責任」で持ち帰ることを明記した。普及のために作成したチラシには、食中毒のリスクを理解し、帰宅後でできる

け速やかに食べる▽生ものや傷みやすいものを持ち帰りは控える▽十分に再加熱して食べる—などの注意点がまとめられた。

モッテコの取り組みに最初手を挙げた「デニースジャパン」環境部会長でコーンソーシアム代表の中上富之さんは当初は、私たちの会社でも食中毒のリスクから「時期尚早ではないかと懸念する声があった。コロナ禍でテイクアウトが広がった影響もあって、一歩目を踏み出すことができた」と振り返る。

告はないという。「食べきってもらうことが基本で、持ち帰り件数を増やすこと自体は目的ではない。社会全体で食品ロス削減に取り組み、その先の温暖化対策にもつながった」と語る。

ただ、大手外食チェーンを中心に広がる持ち帰りだが、また全国で「一般的になった」とまでは言えないのが現状だ。中上さんは「国内の外食店舗のうち、9割を占めるとされる小規模・個人経営の店での普及が鍵で、それには自治体の協力が必要だ」と指摘する。

店内にポスター

ここに手を入れ始めた自治体の一つが東京都多摩市だ。

肉厚な豚カツやからあげ、エビフライに、ご飯とみそ汁などが添えられたポリウムたっぷり定食。多摩市の個人経営のとんかつ店「三九三」の壁には「お持ち帰りでエコしませんか」と書かれたモッテコのポスターが掲示されている。

店長の渡辺一隆さんは「このポスターのおかげで、お客さんが持ち帰りの希望を伝えやすくなったと感じ



注意が書かれたチラシとともに持ち帰りの容器を渡している—東京都中央区で7月

る。食べ残しがあると悲しい気持ちになってきたが、持ち帰ってもらう選択ができてよかった。月10回ほど利用がありデニースがあったことを知った」と話す。同市では昨年度から、食べ残しの持ち帰りに協力する飲食店を募って、容器30個やポスター、チラシなどを無償提供する取り組みを始め、店舗の協力を得た。今年度は協力店舗数をさらに増やす見込みだ。

一方で、「個人店は少ない人数で店を回しているので、事業に参加したり容器などを管理したりするのが『手間だ』と断られるケースもある」と打ち明ける。食品ロスに詳しい日本女子大の小林寛雄教授(フードシステム論)は「大手外食チェーンではここ数年、持ち帰りができる店が増えた。一方で個人店は、店に責任がなかったとしても、味の劣化や腹痛など苦情につながるリスクに敏感なので、取り組みにくいという傾向がある」と指摘する。「食はコミュニケーションの一つ。ガイドラインの策定を機に、持ち帰りの意識が高まっていくことを期待したい」と話した。

【中村好見、阿部純美】

問 記事の内容と合っているものを次のア～クからすべて選び、記号で答えなさい。

- ア. 食品ロスの量は、2023年度の推計値では日本人1人あたりおにぎりを1日2個以上捨てている計算になる。
- イ. 持ち帰りは、2021年に制定された食品ロス削減推進法に先立って2019年から行われた。
- ウ. 食品ロスを減らす取り組みは、2024年度末時点で1230店舗が全国で参加し82トンの削減に成功した。
- エ. 持ち帰りにおける食中毒の責任は、飲食店の責任となる。
- オ. 持ち帰りでは、帰宅後すぐに食べる・十分に再加熱をするなどの注意が必要である。
- カ. 持ち帰りが広がるきっかけのひとつに、新型コロナウイルスによる影響があった。
- キ. 地球温暖化対策のひとつとして地産地消の推進があるが、そのためには自治体の協力が必要である。
- ク. 食べきれなかった料理を持ち帰る取り組みは、大手外食チェーンでは進んでいるものの、個人店ではあまり進んでいない。

とじしろ (何も書かないでください。)

令和8年度 第2回 入学試験 社会解答用紙 和洋九段女子中学校

受験番号

--	--	--	--

氏名

--

1	問1	問2	古	→	→	→	新	問3	問4
---	----	----	---	---	---	---	---	----	----

問5	番号	語句	問6
----	----	----	----

問7	I	II	問8	問9
----	---	----	----	----

問10	問11	問12	古	→	→	→	新	問13
-----	-----	-----	---	---	---	---	---	-----

2	問1	問2	問3
---	----	----	----

問4	市	問5	川	問6	月	日
----	---	----	---	----	---	---

問7	地方	問8	市	問9
----	----	----	---	----

問10	(A)	位置	(B)	位置
-----	-----	----	-----	----

問10	(C)	位置
-----	-----	----

3	問1	X	Y	権	問2
---	----	---	---	---	----

問3	記号	理由
----	----	----

問4

問5	問6		問7	問8
----	----	--	----	----

問9	問10
----	-----

問11	問12
-----	-----

4
